




期末模拟测试卷(三)

- 注意事项:1. 本试卷共2页,总分100分,考试时间60分钟。
2. 答卷前将密封线左侧的项目填写清楚。
3. 答案须用黑色字迹的钢笔、签字笔或圆珠笔书写。

题号	一	二	三	四	五	六	卷面分	总分
得分								

一、我会填。(20分)


1. 数一数,再写数。



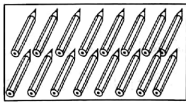
--	--



--	--



--	--



--	--

2. 4个一和1个十合起来是(),再加上()个一是20。

3. 有16个小朋友在排队买电影票,琳琳前面有7个人,她后面有()个人。

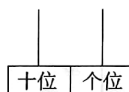
4. 看图回答问题。



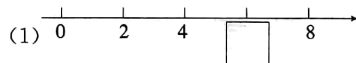
(1)认真数一数,图中一共有()只兔子。

(2)这个数字是由()个一和()个十组成的。

(3)在左面的算盘上画出和这个数字相对应的珠子。



5. 找规律。



(2) $\square \triangle \bigcirc \square \triangle \bigcirc \square \triangle \bigcirc$ ()。(只画一组)

6. 把12、16、5、11、18按从小到大的顺序排列起来。

() < () < () < () < ()

7. 15和13是()的邻居。

二、我是聪明的小法官。(正确的打“√”,错误的打“×”)(10分)

1. 一十一写作101。()

2. 因为 $13-9=4$,所以9和13之间有4个数。()

3. 1个7和7个一相等。()



4. 0是球形。()

5. 由 $12-\square=5+\triangle$,可知 $\square>\triangle$ 。()

三、选一选。(把正确答案的字母填在括号里)(10分)

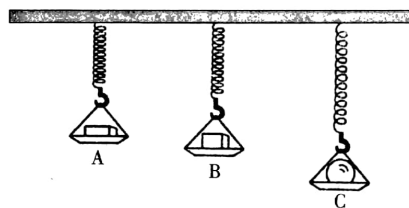
1. 和 $6+6$ 的和相等的算式是()。

- A. $12-3$ B. $4+9$ C. $7+5$

2.  左图中共有()个 .

- A. 4 B. 5 C. 6

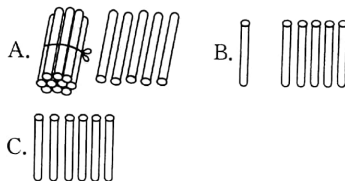
3. 下面图形中最重的是()。



4. 下列交通工具中和其他两种不同的是()。

- A.  B.  C. 

5. 下面图形表示数字15的是()。



四、计算乐园。(32分)

1. 直接写得数。(6分)

$$\begin{array}{lll} 3+7= & 18-9= & 5+8= \\ 8+6= & 12-4= & 10-6= \\ 6+9= & 12-6= & 5+3= \\ 0+5= & 9+0= & 7-7= \end{array}$$

2. 在○里添上“>”、“<”或“等于”。(6分)


$$\begin{array}{ll} 6+4-3 \bigcirc 6 & 4+8-11 \bigcirc 2 \\ 16-7+1 \bigcirc 10 & 2+7-5 \bigcirc 6 \\ 15-5+3 \bigcirc 12 & 18-9+2 \bigcirc 7 \end{array}$$

3. 在□里填上合适的数。(12分)

$$\begin{array}{l} 6+9=\square \\ \begin{array}{c} \square \\ \square \end{array} \end{array} \quad \begin{array}{l} 16-4=\square \\ \begin{array}{c} \square \\ \square \end{array} \end{array}$$

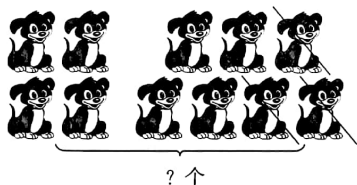
$$\begin{array}{l} 10-3+1=\square \\ \begin{array}{c} \square \\ \square \end{array} \end{array} \quad \begin{array}{l} 18-4+2=\square \\ \begin{array}{c} \square \\ \square \end{array} \end{array}$$

4. 看图列式计算。(8分)



? 个


$$\square \bigcirc \square \bigcirc \square = \square \text{ (个)}$$




$$\square \bigcirc \square \bigcirc \square = \square \text{ (只)}$$

五、心灵手巧。(8分)

1. 把每行中不是同类的圈出来。(4分)



2. 数一数,填一填。(4分)



六、解决问题。(22分)

1. 一共有多少人?(7分)



2. 明明得了6朵小红花,丽丽得到的小红比明明多5朵。俩人一共得了多少朵小红花?(7分)

3. 王叔叔要今天要加工零件20个,上午加工了9个,下午加工了5个。还剩下多少个零件没加工?(8分)

